



Determine if the angle shown is 'less', 'more' or 'equal' to 90°.

Ex)



1)



2)



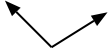
Answers

Ex. more

1. _____

2. _____

3)



4)



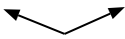
5)



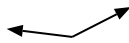
3. _____

4. _____

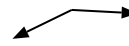
6)



7)



8)



6. _____

7. _____

9)



10)



11)



9. _____

10. _____

12)



13)



14)



12. _____

13. _____

15)



16)



17)



15. _____

16. _____

18)



19)



20)



18. _____

19. _____

20. _____



Determine if the angle shown is 'less', 'more' or 'equal' to 90° .

Ex) 1) 2) 3) 4) 5) 6) 7) 8) 9) 10) 11) 12) 13) 14) 15) 16) 17) 18) 19) 20)

Answers

- Ex. more
1. less
2. equal
3. more
4. equal
5. equal
6. more
7. more
8. more
9. less
10. less
11. less
12. equal
13. less
14. equal
15. equal
16. more
17. equal
18. less
19. more
20. less